

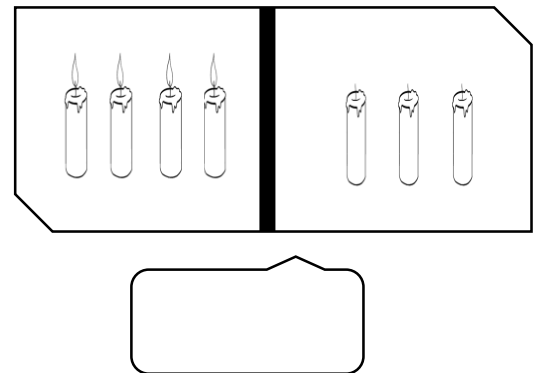








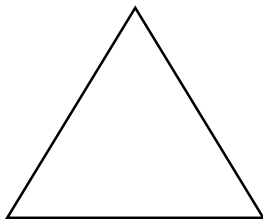
۱- با کشیدن پوب خط حساب کن شکل های سمت راست و چپ با هم چند تا می شوند؟



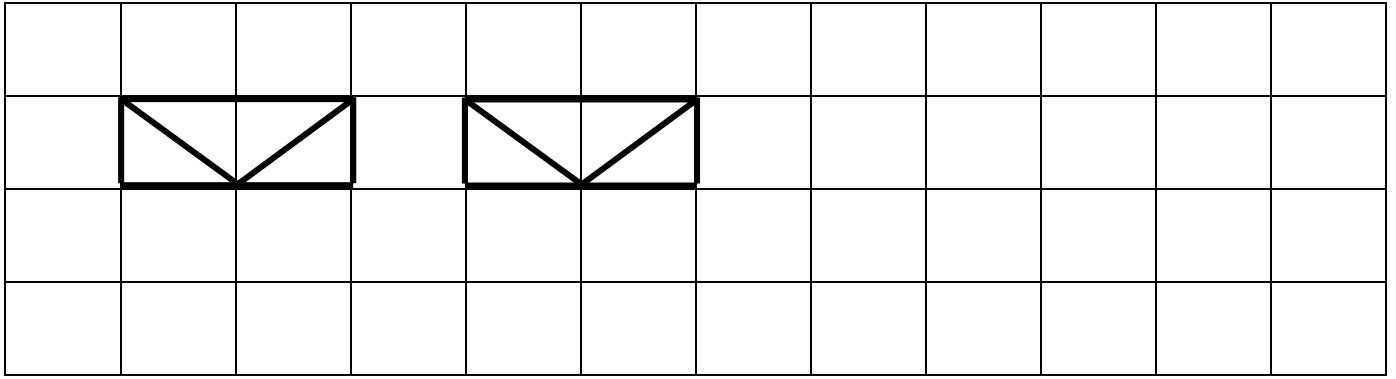
۲- تعداد شکل های سمت چپ را با انگشتان دست نشان بده. و به تعداد شکل های سمت راست انگشتان خود را ببندید. چندتا می ماند؟ با چوب خط نشان بده.



۳- تعداد گوشه های شکل های زیر را با چوب خط نشان بده.




۴- الگوی زیر را ادامه بده.




۵- جدول زیر را با توجه به رنگ نوشته شده کامل کن و رنگ بزن. (بزرگتر عزیز برایش بخوانید)

قرمز	سبز	زرد	آبی
زرد			سبز
سبز			زرد
	زرد	سبز	قرمز


۶- الگوهای زیر را ادامه بده و رنگ بزن.



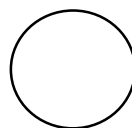
نظر آموزگار:



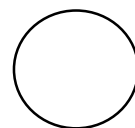
نیاز به تلاش



قابل قبول



خوب



خیلی خوب